
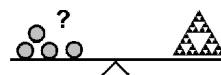


Name: \_\_\_\_\_

Klasse: \_\_\_\_\_



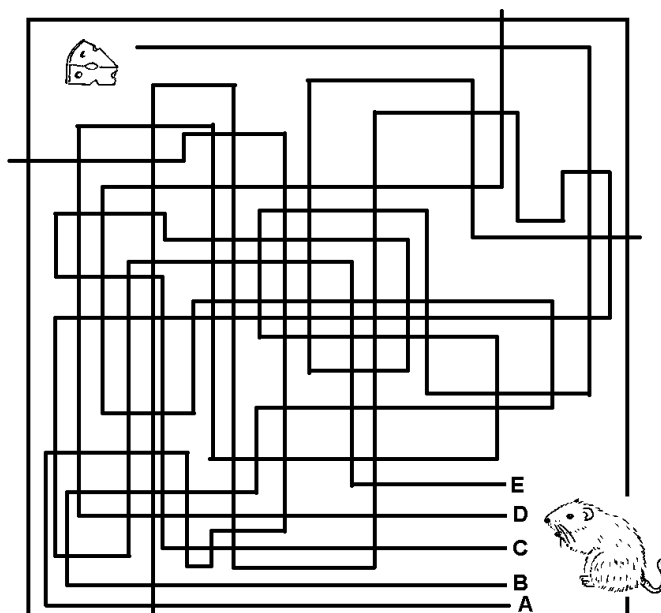
# Mini-Känguru 2008



## 3- Punkte- Aufgaben

### Aufgabe 3-1

Welcher Weg führt die Maus zum Käse?



A	B	C	D	E

### Aufgabe 3-2

Welche dieser Zahlen ist ungerade?

350	934	258	753	742



## 4- Punkte- Aufgaben

### Aufgabe 4-1

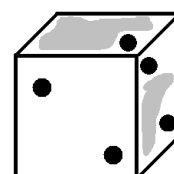
Der wievielte Teil des Rechtecks ist grau gefärbt?



der dritte Teil	die Hälfte	der vierte Teil	der fünfte Teil	der achte Teil

### Aufgabe 4-2

Oh je! Da ist Leonie aber wirklich sauer! Sie hat einen Spielwürfel gebastelt. Die Augenzahlen auf den gegenüberliegenden Seiten ergeben zusammen immer 7. Als der Würfel zum Trocknen auf der Fensterbank lag, hat ihr kleiner Bruder große graue Flecken darauf gemalt.



Findest du heraus, welche Augenzahl vorher auf der Oberseite des Würfel stand?


5	4	6	3	1

### Aufgabe 4-3

Eines der 5 Bilder unten hat Lina mit diesem Stempel gedruckt. Welches ist es?



A



B



C



D



E

A	B	C	D	E

**Aufgabe 4-4**

Von den 44 Kindern der zweiten Klassen der Krautgartenschule geht der vierte Teil zur Musical-AG, 26 Kinder zum Chor und die übrigen Kinder zur Schach-AG.

Wie viele Kinder sind in der Schach-AG?

11	18	9	13	7

**Aufgabe 4-5**

Zu Ostern hat der Osterhase viele Eier gefärbt und zwar rot, blau, gelb, grün und orange. Er will immer zwei Eier zusammen in einem Körbchen verstecken, aber die beiden Eier sollen nicht die gleiche Farbe haben.


Wie viele verschiedene Körbchen kann er verstecken?

20	5	32	15	10

**5- Punkte- Aufgaben**

**Aufgabe 5-1**

Für eine Schultombola hat die Klasse 2e Loszettel mit den Zahlen von 10 bis 99 beschriftet. Gewinnen sollen dabei alle Lose mit Einerziffer 5 und außerdem alle Lose mit gleichen Ziffern (zum Beispiel 66).



Wie viele Lose können gewinnen?

17	27	9	19	18

### Aufgabe 5-2

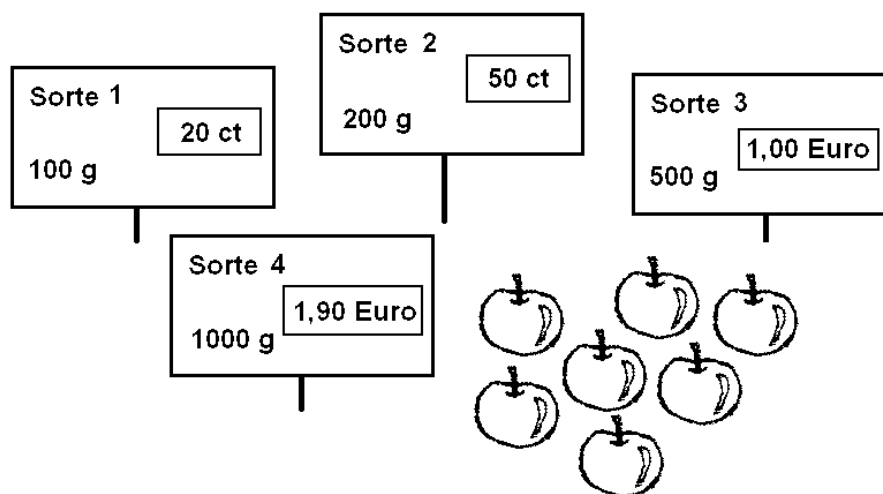
Auf zwei Stapeln liegen insgesamt 30 Hefte. Wenn man vom ersten Stapel zwei Hefte auf den zweiten Stapel legt, dann liegen auf dem ersten Stapel genau doppelt so viele Hefte wie auf dem zweiten.

Wie viele Hefte lagen ursprünglich auf dem ersten Stapel?

22	24	18	8	20

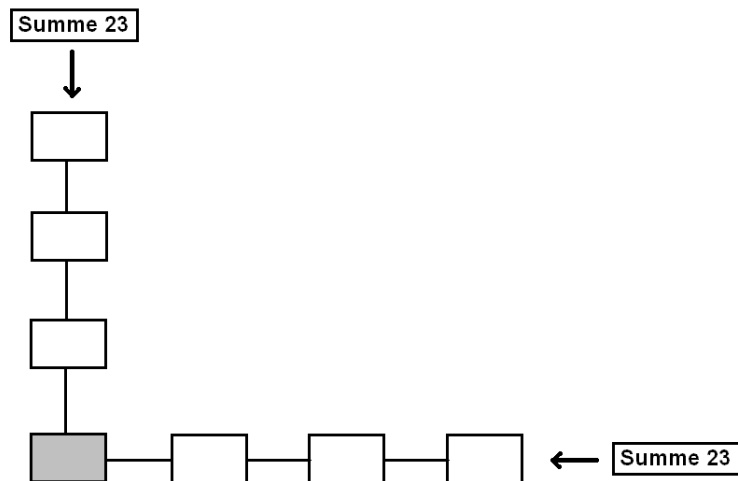
### Aufgabe 5-3

Robin möchte auf dem Markt Äpfel kaufen. Alle vier Sorten sehen gleich lecker aus. Deshalb möchte er die billigste Sorte kaufen. Welche Äpfel muss er nehmen?



Sorte 1	Sorte 2	Sorte 3	Sorte 4	egal

### Aufgabe 5-4




Trage **alle** Zahlen 3, 4, 5, 6, 7, 8 und 9 so in die Kästchen ein, dass die vier Zahlen von oben nach unten zusammen 23 ergeben und auch die vier Zahlen von rechts nach links zusammen 23 ergeben.

Welche Zahl muss dann in dem grauen Kästchen stehen?

9	6	7	4	5

### Aufgabe 5-5



Der Großvater ist zweimal so stark wie die Großmutter. Die Großmutter ist zweimal so stark wie die Enkelin. Die Enkelin ist zweimal so stark wie der Hund. Der Hund ist zweimal so stark wie die Katze. Die Katze ist zweimal so stark wie die Maus.

Großvater, Großmutter, Enkelin, Hund und Katze können zusammen die Rübe nicht herausziehen. Erst als die Maus hilft, schaffen sie es.

Wie viele Mäuse können zusammen die Rübe herausziehen?

12	63	101	31	54