
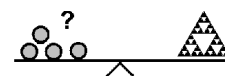


Name: \_\_\_\_\_

Klasse: \_\_\_\_\_



## Minikänguru 2017 - Klasse 1



3 Punkte


### A-1

$$20 - 17 + 2 + 0 + 1 + 7 =$$

10	14	13	12	11

### A-2

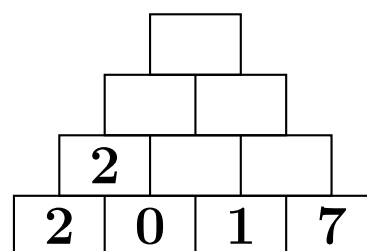
Es sind  weiße Knöpfe mehr als schwarze.



7	8	9	10	17

### A-3


Rechne! Welche Zahl steht ganz oben?



12	13	11	9	10

**A-4**

Park bis Kino: 7 Kilometer  
 Kino bis Zoo: 3 Kilometer  
 Park bis Zoo:  Kilometer




7	3	4	10	13

4 Punkte

**B-1**

Ich sehe 3 Vögel und 2 Katzen. Alle Tiere zusammen haben  Beine.

18	10	5	12	14

**B-2**

Das Känguru hat Platz 6. Der Koala hat Platz 15. Zwischen Känguru und Koala gibt es  Plätze.

9	10	8	15	6

**B-3**

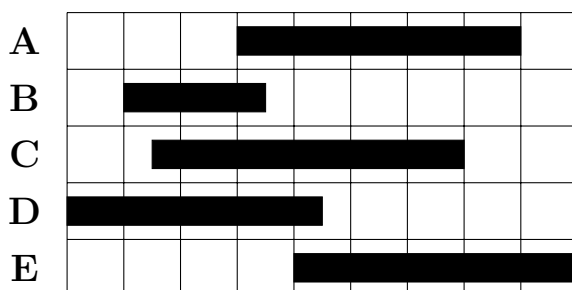
Am Ufer sitzen 12 Frösche. 7 Frösche hüpfen in den See. 4 Frösche davon hüpfen wieder zurück.

Jetzt sitzen  Frösche am Ufer.

15	5	9	16	10

**B-4**

Welcher Streifen ist der längste?



A	B	C	D	E

5 Punkte

**C-1**

Am Montag springt das Känguru 2 Meter weit. Jeden Tag springt das Känguru einen Meter weiter.

Am Freitag springt das Känguru  Meter weit.

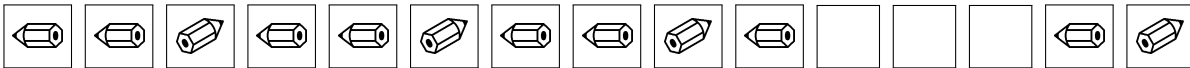
5	6	7	8	9

**C-2**

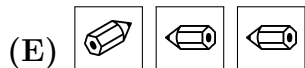
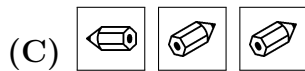
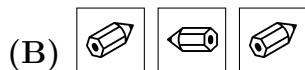
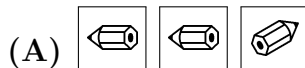
Das Känguru hat im September Geburtstag. Der Koala hat 5 Monate früher Geburtstag.

Der Koala hat im Monat  Geburtstag.

März	Juni	April	Januar	Februar

**C-3**

Welche Karten fehlen?



A	B	C	D	E

**C-4**

<b>Eintrittspreise Zoo :</b>
<b>Kinder : 3 Euro</b>
<b>Erwachsene : 6 Euro</b>

Herr Meier und Frau Meier gehen mit ihren 2 Kindern in den Zoo. Sie bezahlen zusammen  Euro.

9	12	6	20	18