
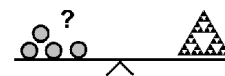


Name: _____

Klasse: _____




Minikänguru 2018 I-Kinder



Kreuze die Antwort an.

A-1

Wie viele siehst du?



2	3	4
---	---	---

A-2


Welche Zahl fehlt?

1		3
---	--	---

2	3	4
---	---	---

B-1

Was ist das Ergebnis?




$$1 + 2 =$$

1	4	3
---	---	---

B-2

Was ist das Ergebnis?



$$3 - 1 =$$

1	2	3
---	---	---

C-1

Zeichne und rechne.


Tom hat 5 Bananen.



Tom isst 3 Bananen.



Wie viele Bananen sind noch da?



2

3

4


C-2

Zeichne und rechne.


Tina holt ein Buch aus dem Regal.



2 Bücher stehen noch im Regal.



Wie viele Bücher hat Tina insgesamt?



2

3

4