
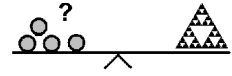


Name: _____

Klasse: _____



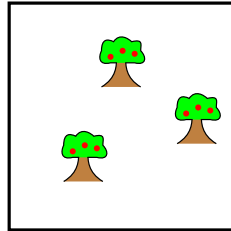
Minikänguru 2019 I-Kinder



Kreuze die Antwort an.

A-1

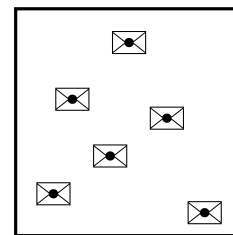
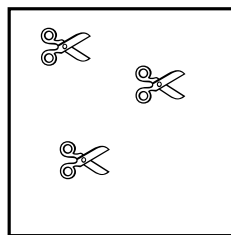
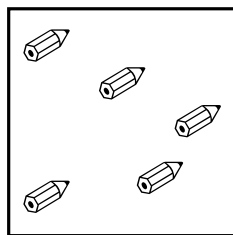
Wie viele siehst du?



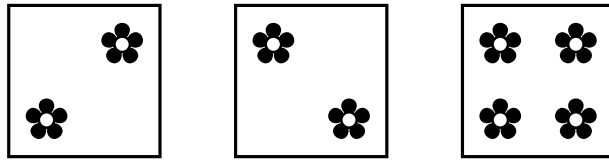
3	2	4
---	---	---

A-2

Wovon gibt es 6?




--	--	--

B-1

$$2 + 2 =$$

2	3	4
---	---	---

B-2

$$3 - 1 =$$

1	2	3
---	---	---

C-1

Zeichne und rechne.

Auf dem Tisch liegen 3 Bälle. Unter dem Tisch liegen 2 Bälle.



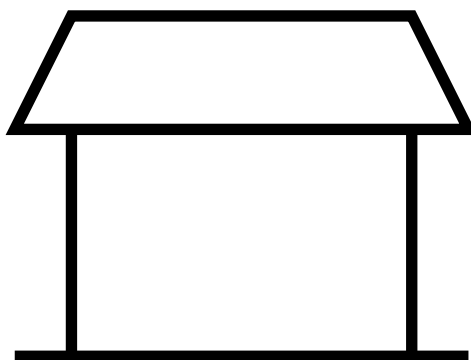
Wie viele Bälle sind es insgesamt?

2	5	4
---	---	---

C-2

Zeichne und rechne.

Im Haus sind 4 Kinder. 2 Kinder gehen weg.



Wie viele Kinder sind noch im Haus?

1	3	2
---	---	---