
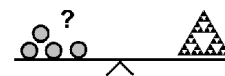


Name: \_\_\_\_\_

Klasse: \_\_\_\_\_



## Minikänguru 2020 - Klasse 2



### A-1

$$20 - 20 + 2 - 0 + 2 - 0 =$$

44	24	18	4	22

### A-2

Das Känguru schreibt das Wort

KÄNGURU

4 Mal hintereinander.

Wie oft schreibt es den Buchstaben U?

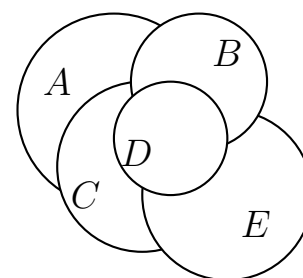
4	8	10	6	7

### A-3

Die Kreise wurden übereinander gelegt.

Welcher Kreis wurde als zweiter gelegt?

A	B	C	D	E



### A-4

Der Frosch springt 2 Meter weit. Das Känguru springt 2 Meter weiter.

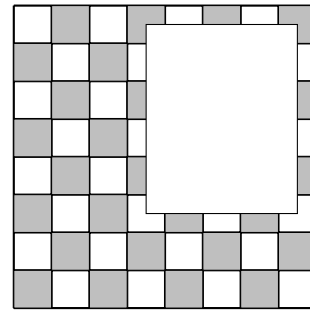
Wie viele Meter springen Frosch und Känguru zusammen?

4	2	5	8	6

**A-5**

Wie viele graue Felder sind gar nicht zu sehen?

6	4	8	10	2

**B-1**

Ein Huhn braucht 3 Wochen, um 12 Eier gleichzeitig auszubrüten.



Wie lange braucht es, um 4 Eier gleichzeitig auszubrüten?

3 Wochen	4 Tage	4 Wochen	2 Wochen	6 Tage

**B-2**


Die Mädchen Lia und Mia und die Jungen Leo, Ole und Ali stehen in einer Reihe.

Lia steht zwischen Ole und Leo.

Leo steht am Rand.

Ali hat einen Pulli mit einem Fußball.

Welches Kind ist Mia?



A	B	C	D	E

**B-3**

Vater kauft 4 Tüten Zucker und 3 Tüten Mehl. In einen Beutel passen genau 2 Tüten.

Wie viele Beutel braucht er mindestens?


2	3	4	5	6

**B-4**

Diese Uhr geht genau 15 Minuten vor.

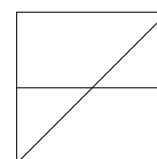
Wie spät ist es wirklich?

3:05	3:20	3:15	2:55	2:50

**B-5**

Wie viele Dreiecke gibt es in der Figur?

0	2	3	4	6

**C-1**

Im Garten wachsen 10 Tulpen in den Farben rot, gelb und weiß.

3 Tulpen sind gelb, 7 Tulpen sind nicht rot.

Wie viele Tulpen sind weiß?



3	4	5	6	7

**C-2**

Das Känguru hüpft zur Schule. Das dauert 18 Minuten. Auf dem Rückweg hüpft es genau 3 Mal so schnell.

Wie lange dauert der Rückweg?

12 Minuten	54 Minuten	6 Minuten	18 Minuten	9 Minuten

**C-3**

$$x + x + x < 24$$

Welches ist die größte Zahl, die du für x einsetzen darfst?

5	7	6	9	8

**C-4**

Das Känguru schreibt von den Zahlen

13,14,17,18,20

vier in die leeren Felder - in jedes Feld eine andere Zahl.

$$\square + \square = \square + \square$$

Welche Zahl bleibt übrig?

13	15	17	19	20

**C-5**

Der Löwe läuft von 1 nach 3.

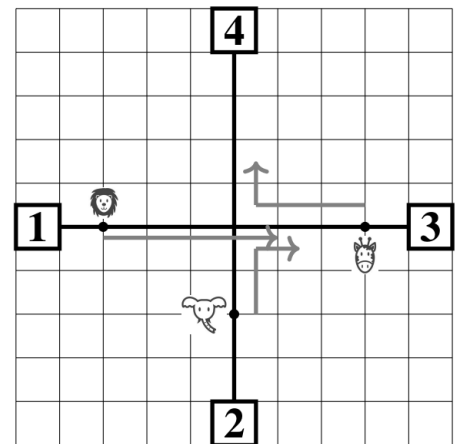
Der Elefant läuft von 2 nach 3.

Die Giraffe läuft von 3 nach 4.

Kein Tier verlässt den schwarzen Weg.

Alle Tiere laufen gleich schnell.

Um 10:00 Uhr wurde das Foto rechts gemacht.



**A**

**B**

**C**

**D**

**E**

Welches Foto wurde um 10:15 Uhr gemacht?

A	B	C	D	E