


Name: _____

Klasse: _____

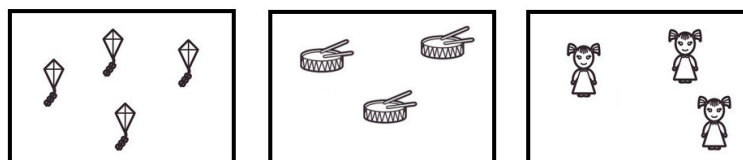


Minikänguru- Wettbewerb 2021 Inklusion



Kreuze die Antwort an.

A-1



Wovon gibt es 4?



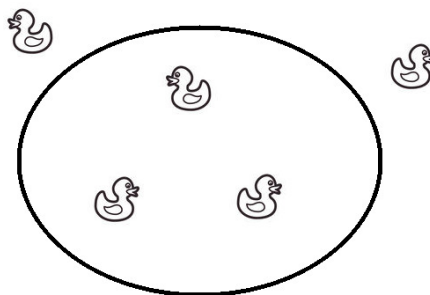
A-2



Wie viele Autos sind es?

1	3	6
---	---	---

B-1



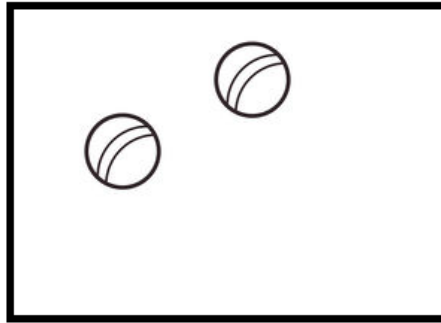
Wie viele Enten sind im Teich?

2	5	3
---	---	---

2

B-2

Zeichne noch 2 Bälle.



Wie viele Bälle sind es nun?

6	2	4
---	---	---

C-1

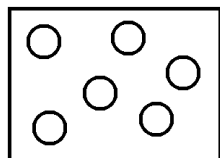
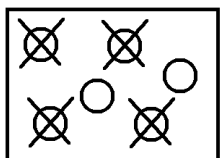
1 2 3 4 6

Welche Zahl fehlt?

5	3	4
---	---	---

C-2

Zeichne, schreibe und rechne.

	-		=	<input data-bbox="917 1601 1125 1758" type="text"/>
<input data-bbox="454 1780 534 1863" type="text"/>	-	<input data-bbox="726 1780 805 1863" type="text" value="4"/>	=	<input data-bbox="981 1780 1061 1863" type="text"/>

Wie viele Kreise bleiben übrig?

2	4	6
---	---	---