
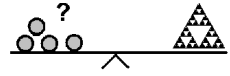


Name: _____

Klasse: _____



Minikänguru- Wettbewerb 2023 Klasse 1

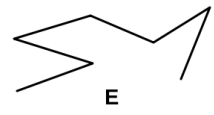
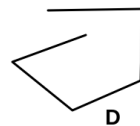
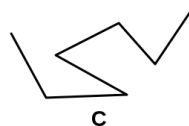
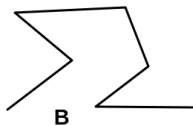


A-1

$$2 + 0 + 2 + 3 =$$

5	6	7	8	9

A-2

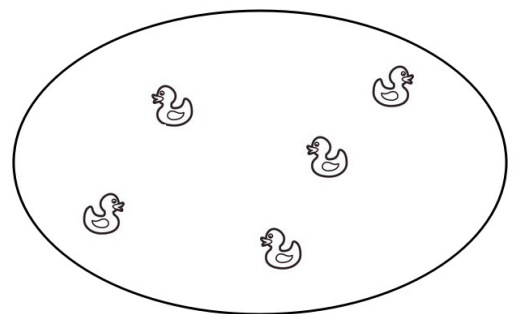


Welcher Weg hat die wenigsten Ecken?

A	B	C	D	E

A-3


7 Enten sind fortgeflogen.
Wie viele Enten waren es?



10	11	2	12	13

A-4

Es ist kein Spielzeug.
 Es hat mehr als 2 Beine.
 Was ist es?



A	B	C	D	E

B-1

Die Kinder pflanzen 2 Reihen Salat.
 In jede Reihe kommen 8 Pflanzen.
 Wie viele Pflanzen brauchen sie?

2	10	16	20	8

B-2

Jedes Kind bekommt gleich viele Äpfel.
 Wie viele Äpfel bekommt jedes Kind?



6	7	12	4	5

B-3


3, 4, 5, 6, 7

Vier Zahlen ergeben zusammen 20.
 Welche Zahl bleibt übrig?

3	4	5	6	7

B-4

Auf einem Teller liegen 10 Kekse.
 Känguru und Panda essen gleich viele Kekse.
 Jetzt sind es noch 6 Kekse.
 Wie viele Kekse hat das Känguru gegessen?



1	2	3	4	5

C-1

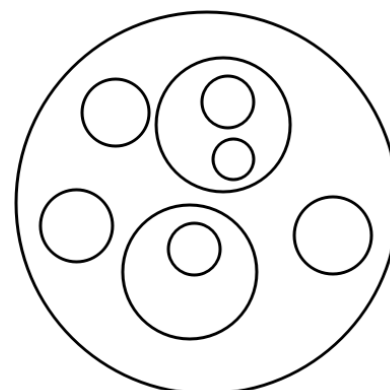
Das Känguru schreibt \circ für eine gerade Ziffer
 und \times für eine ungerade Ziffer.

Was schreibt das Känguru für 2023?

$\circ \circ \circ \times$	$\circ \times \circ \times$	$\times \times \times \circ$	$\times \circ \times \circ$	$\circ \circ \times \times$

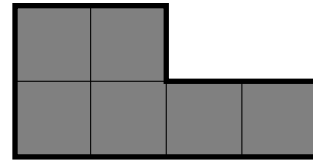
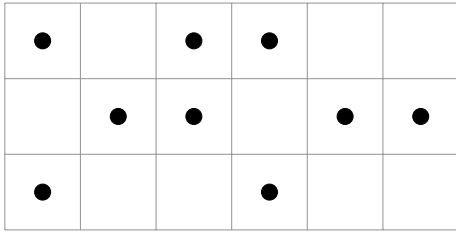
C-2

Finde alle Kreise.
 Zeichne in jeden Kreis einen Punkt.
 Wie viele Punkte sind es?



10	9	7	8	6

C-3



Das Känguru schiebt das graue Teil auf das Gitter.

Welches ist die größte Anzahl Punkte,
die es zudecken kann?

3	4	6	2	5

C-4

Das Känguru denkt sich eine Zahl.

Der Panda fragt.

Das Känguru antwortet.

Panda: Ist die Zahl größer als 3?

Känguru: Ja.

Panda: Ist die Zahl kleiner als 6?

Känguru: Ja.

Panda: Ist die Zahl gerade?

Känguru: Nein.

Welche Zahl hat sich das Känguru gedacht?

5	4	3	2	7