
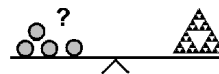


Name: \_\_\_\_\_

Klasse: \_\_\_\_\_



## Minikänguru- Wettbewerb 2023 Klasse 2

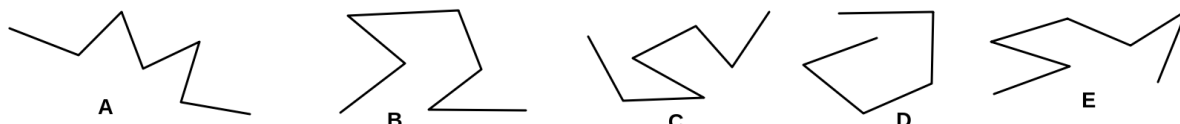


### A-1

$$2 + 0 + 23 - 23 - 0 - 2 =$$

50	46	0	23	25

### A-2



Welcher Weg hat die wenigsten Ecken?

A	B	C	D	E

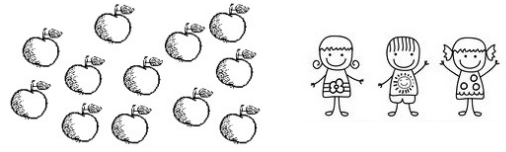
### A-3

Die Kinder pflanzen 2 Reihen Salat.  
In jede Reihe kommen 8 Pflanzen.  
Wie viele Pflanzen brauchen sie?

2	10	16	20	8

**A-4**

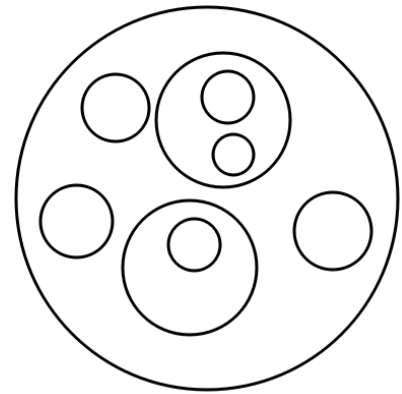
Jedes Kind bekommt gleich viele Äpfel.  
Wie viele Äpfel bekommt jedes Kind?



4	3	5	6	2

**A-5**

Finde alle Kreise.  
Zeichne in jeden Kreis zwei Punkte.  
Wie viele Punkte sind es?



16	20	14	18	9

**B-1**

In jedem Monat mit dem Buchstaben r  
besucht das Känguru den Panda.

Wie oft besucht das Känguru den Panda in einem Jahr?

7 Mal	8 Mal	9 Mal	6 Mal	12 Mal

**B-2**

Das Känguru schreibt  $\circ$  für eine gerade Ziffer und  $\times$  für eine ungerade Ziffer.

Welche Zahl passt zu

$\circ \circ \times \circ \times \times$  ?

235691	205691	245623	428691	443579

**B-3**

Das Känguru denkt sich eine Zahl.

Der Panda fragt.

Das Känguru antwortet.

**Panda:** Ist die Zahl größer als 33?

**Känguru:** Ja.

**Panda:** Ist die Zahl kleiner als 36?

**Känguru:** Ja.

**Panda:** Ist die Zahl gerade?

**Känguru:** Nein.

Welche Zahl hat sich das Känguru gedacht?

32	33	34	35	37

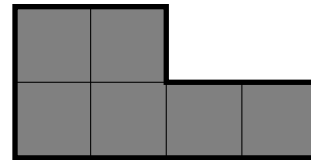
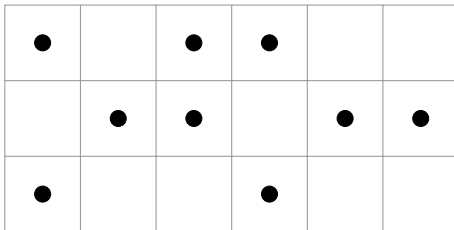
4

**B-4**

Am Wettkampf nehmen 5 Mannschaften teil.  
In jeder Mannschaft sind 6 Kinder.  
Jedes Kind der 3 besten Mannschaften bekommt eine Urkunde.  
Wie viele Urkunden sind es insgesamt?

18	30	14	15	11

**B-5**



Das Känguru schiebt das graue Teil auf das Gitter.  
Welches ist die größte Anzahl Punkte,  
die es zudecken kann?

3	4	6	2	5

**C-1**

9, 11, 12, 14, 23

Vier Zahlen ergeben zusammen 60.  
Welche Zahl bleibt übrig?

9	11	12	14	23

**C-2**

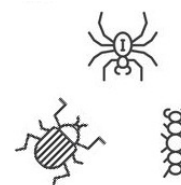
Die Kinder einer Gruppe setzen sich auf Bänke.  
 Erst setzen sich immer 3 Kinder zusammen auf eine Bank.  
 Dann setzen sich immer 4 Kinder zusammen auf eine Bank.  
 Beide Male bleibt kein Kind übrig.

Wie viele Kinder sind es?

10	12	15	16	18

**C-3**

Auf einer Wiese krabbeln Spinnen, Raupen und Käfer.  
 Zusammen sind es 7 Tiere.  
 Es sind mehr Raupen als Spinnen  
 Es sind mehr Käfer als Raupen.  
 Wie viele Käfer sind es?




1	2	3	4	5

**C-4**

Das Känguru schält in einer Minute 2 Kartoffeln.  
 Der Panda schält in einer Minute 3 Kartoffeln.  
 In wieviel Minuten schälen sie zusammen 15 Kartoffeln?

3	6	2	5	4



Das Känguru will von A nach B laufen.

An jeder Kreuzung darf es entweder geradeaus weiterlaufen oder rechts abbiegen.

Wieviel Mal biegt das Känguru mindestens rechts ab?

4 Mal	2 Mal	5 Mal	6 Mal	3 Mal